

LÍNGUA PORTUGUESA

Leia o texto abaixo para responder às questões de 1 a 5.

Grave, o recado

Descobri por esses dias que deixar recado no celular saiu de moda. Pior, tornou-se quase falta de educação, algo assim como pedir dinheiro emprestado ou mordida de sanduíche.

Fiquei sabendo desta nova cláusula da etiqueta ao ligar para uma amiga, advogada. Ela não atendeu, entrou a gravação e eu já estava pensando em alguma gracinha para dizer, uma dessas bobagens inúteis e carinhosas que regalamos às pessoas queridas - como um bombom que se larga na mesa de uma colega de trabalho, na volta do almoço -, quando dei com as torpes palavras: "Oi, aqui é a Mariana, POR FAVOR, NÃO DEIXE RECADO, prefiro que me mande uma mensagem de texto".

Eu, ingênuo, achei que o problema era da Mariana. Tadinha, tá trabalhando muito, ralando ali naquele balcão de tragédias que é o exercício do direito; normal que, em nome de causas maiores, tenha deixado para trás os pequenos prazeres da vida. Como não queria ser responsabilizado pela condenação de inocentes ou pela absolvição de criminosos, desliguei o telefone antes do bip e esqueci o assunto.

Até que, anteontem, liguei para um amigo músico. Vejam bem: mú-si-co. E não é que ouvi o mesmo desaforo? "Oi, aqui é o Jaime, NÃO DEIXE RECADO, me manda um SMS ou um e-mail e eu te respondo, tá?". Não, Jaime, não tá. O que é isso, companheiro?! Cê é controlador de voo? Motorista de ambulância? Vendedor de amendoim em final de campeonato? Não; então não enche o saco e ouve meu recado, que eu te conheço desde o jardim 2 e acho que mereço 27 segundos de seu tempo, cazzo!

Fossem só a Mariana e o Jaime, tudo bem, mas assuntei por aí e descobri que a birra é consensual. "Se o bina nos informa quem ligou e o SMS e o e-mail dão conta de qualquer mensagem, pra que perder tempo escutando aquela ladainha?", dizem.

Realmente, tem sua lógica. Sugiro, aliás, aplicá-la a outras esferas do comportamento humano, de modo deixar nosso cotidiano mais eficiente. Por exemplo: se já existem vitaminas em pílulas e carboidrato em gel, pra que fazer uma refeição? Céus, que época para se viver!

Não, talvez não seja a época, mas a idade em que me encontro, em que se encontra a maioria das pessoas com quem convivo: 30 e poucos anos. Essa presunção estúpida de que cada um de nós é uma engrenagem fundamental na máquina do mundo, elo importantíssimo no processo de fritura do torresmo.

Estou fazendo graça; sinto-me um tanto hipócrita. Não fujo à regra. Também ando por aí, afobadinho e ansioso, querendo otimizar meu tempo, com raiva dos outros sempre que se tornam obstáculos à plena realização das minhas capacidades produtivas.

Que ridículo. No fim das contas, o único momento em que seremos 100% produtivos, em que nem uma célula será desperdiçada e nem uma caloria gasta em vão, é quando virarmos adubo para o capim do cemitério. E nessa hora, meus caros, enquanto estivermos devolvendo ao cosmos a energia que nos foi brevemente emprestada, não precisaremos nos preocupar: ninguém vai telefonar para atrapalhar nosso trabalho. Ou melhor, o das minhocas.

Antonio Prata – Folha de S.Paulo – 15/2/2012

1. No texto, o autor lamenta uma aparentemente nova regra de etiqueta social, que é a de não deixar recado na caixa postal do celular dos outros. Ele descobriu que a regra era consensual e se estendia além do seu grupo de amigos quando
 - (A) ele mesmo descobriu que se irrita quando alguém faz isso com ele.
 - (B) abordou a mesma questão a outras pessoas, explicitada pelo uso do sujeito indeterminado no verbo "dizem".
 - (C) seus amigos Mariana e Jaime lhe falaram que a regra tem lá a sua lógica e que ninguém gosta mesmo de ficar ouvindo mensagens na caixa postal.
 - (D) percebeu que o SMS ou o e-mail são bem mais práticos e mais baratos que a caixa postal do celular.
2. Quando o autor sugere que ninguém mais se alimente, ele
 - (A) critica a prática das refeições, considerada por ele arcaica.
 - (B) ironiza a atual obsessão do ser humano de tornar tudo mais prático, eficiente e rápido.
 - (C) exalta os avanços da ciência e da tecnologia.
 - (D) relativiza o que é de fato importante e o que não tem tanta importância nos tempos modernos.
3. A pontuação usada no título, com a vírgula logo depois da palavra "grave",
 - (A) está intencionalmente incorreta, pois não deve haver vírgula entre sujeito e predicado. O título usado nos remete à linguagem rápida e sem cuidado dos SMS, onde cometemos muitos erros.
 - (B) indica que usar pontuação incorretamente é tão grave e mal-educado quanto deixar mensagem na caixa postal.
 - (C) graceja com as duas possibilidades de vírgula na expressão. "Grave", como verbo no imperativo, não há vírgula. Já como adjetivo a palavra pede essa vírgula para fugir da ambiguidade da expressão.
 - (D) reflete a lógica irônica do uso das mensagens de caixa postal e, principalmente, de SMS.
4. Na frase: "Fossem só a Mariana e o Jaime", o verbo usado está no
 - (A) presente do indicativo.
 - (B) pretérito imperfeito do indicativo.
 - (C) presente do subjuntivo.
 - (D) pretérito imperfeito do subjuntivo.
5. Na frase "a idade [...] em que se encontra a maioria das pessoas com quem convivo",
 - (A) não há nenhum erro gramatical.
 - (B) "a maioria" pede verbo no plural: "se encontram".
 - (C) o correto seria "das pessoas que convivo".
 - (D) o único erro gramatical é de regência verbal.
6. Assinale a alternativa que não possui erros ortográficos.
 - (A) Mais de sessenta adolescentes foram levados em detensão.
 - (B) De acordo com a tese do diretor, o aluno foi expulso por indisciplina.
 - (C) O vereador acendeu ao poder tão rápido que gozou de todos os privilégios políticos.
 - (D) Refúgio da mente é absolvição da dor.

7. Com relação à acentuação, assinale a alternativa correta.
- (A) Órfão, álcool, hífen.
 - (B) Hífen, juiz, polen.
 - (C) Ciume, mágoa, juízo.
 - (D) Púdico, túnel, saúva.

Leia a oração abaixo para responder às questões 8 e 9.

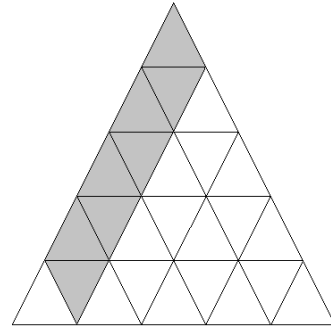
Ávido para sair da escola fazia dois meses, João não aguentou e chorou.

8. A frase acima
- (A) não possui erro gramatical.
 - (B) possui erro de regência nominal.
 - (C) possui erro de concordância verbal.
 - (D) possui erros de regência nominal e concordância verbal.
9. Assinale a alternativa em que a oração está redigida corretamente.
- (A) Ávido para sair da escola fazia dois meses, João não aguentou e chorou.
 - (B) Ávido por sair da escola faziam dois meses, João não aguentou e chorou.
 - (C) Ávido por sair da escola fazia dois meses, João não aguentou e chorou.
 - (D) Ávido para sair da escola faziam dois meses, João não aguentou e chorou.
10. Em relação à crase, assinale a alternativa correta.
- (A) Pediu ajuda à todos os estranhos que viu na rua.
 - (B) Quando os lutadores ficaram cara à cara, tudo ruiu.
 - (C) O discurso do paraninfo fez menção à essas alunas.
 - (D) Beto fez um gol à Romário.

MATEMÁTICA

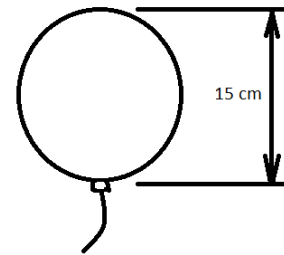
11. Na Prefeitura de Santana de Parnaíba, avistei um avião da Força Aérea Brasileira voando a 11000 metros acima do nível do mar (altitude de cruzeiro). Se o local em que estava observando-o está a 719 metros acima do nível do mar, posso dizer que o avião estava distante de mim a
- (A) 9000 m
 - (B) 9719 m
 - (C) 10281 m
 - (D) 11719 m
12. Uma temperatura passou de -5°C para 23°C . Podemos dizer que a variação da temperatura foi de:
- (A) 18°C
 - (B) 23°C
 - (C) 28°C
 - (D) 33°C
13. Os funcionários da Prefeitura de Santana de Parnaíba alugaram um sítio que tem uma piscina. Para enchê-la, uma torneira leva 6 horas. Outra torneira leva 3 horas. Juntas, o tempo total para encherem a piscina é de
- (A) 1 h
 - (B) 2 h
 - (C) 3 h
 - (D) 4 h

14. Indique com uma fração a área pintada.



- (A) $8/25$
- (B) $8/33$
- (C) $8/35$
- (D) $8/37$

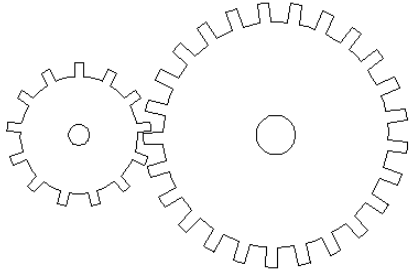
15. Para encher um balão de festa redondo, assoprei até este adquirir 15 cm de diâmetro. Veja figura:



Posso dizer que para fazer o balão da figura acima são gastos a quantidade de ar aproximada de

- (A) 686 cm^2
 - (B) 693 cm^2
 - (C) 700 cm^2
 - (D) 707 cm^2
16. Uma pessoa está precisando tirar uma cópia de um documento ampliada. Se o lado menor mede 150 mm de largura no documento original e, será impresso dentro de um formato A4 (210 x 297 mm), podemos dizer que a altura, depois da impressão, será de 297 mm e será máxima no documento original, sem cortes ou espaçamentos, se for de
- (A) 183 mm
 - (B) 191 mm
 - (C) 200 mm
 - (D) 212 mm
17. Se a prefeitura der um aumento para seus funcionários, de uma certa classe, de 21% e, sabendo que o salário atual é de R\$ 2533,00, o valor passará a ser de
- (A) R\$ 2838,40
 - (B) R\$ 3000,00
 - (C) R\$ 3064,93
 - (D) R\$ 3231,63

18. Um par de engrenagens, conhecido também como pião e coroa (veja a figura), possui uma engrenagem com 13 dentes e outra com 25.



Quando a engrenagem maior dá x voltas, ela faz a menor girar y voltas, no sentido contrário.
Se $y = 3$, x será aproximadamente:

- (A) 1,6
(B) 2,3
(C) 3,0
(D) 5,7
19. Tenho R\$ 800,00 na minha conta no banco e 43% do que eu tenho correspondem a 21% do que tem o meu irmão. Ele tem aproximadamente
- (A) R\$ 1501,00
(B) R\$ 1638,00
(C) R\$ 1723,00
(D) R\$ 1816,00
20. Aplicando um certo capital por 6 meses e, sabendo que no final desse prazo, só de juros receberei o triplo do dinheiro, posso dizer que a taxa mensal dessa aplicação é de
- (A) 30%
(B) 40%
(C) 50%
(D) 60%

CONHECIMENTOS GERAIS / ATUALIDADES

21. Segundo o jornal Estado de São Paulo (04/04/2012), a confiança dos brasileiros na presidente Dilma Rousseff oscilou conforme apontou a pesquisa CNI/Ibope:
- (A) saltou de 68% para 72%.
(B) saltou de 60% para 68%.
(C) saltou de 56% para 60%.
(D) saltou de 60% para 72%.
22. Segundo o jornal Estado de São Paulo (21/04/2012), cerca de três mil pessoas, pelos cálculos da Polícia Militar, participaram no dia 21 de abril da Marcha contra a Corrupção, na Esplanada dos Ministérios. Essa marcha se deu em protesto
- (A) ao baixo salário dos professores.
(B) à CPI do Mensalão.
(C) ao envolvimento de políticos com a organização criminosa comandada pelo bicheiro Carlinhos Cachoeira.
(D) à invasão dos índios no sul da Bahia.

Leia a notícia abaixo para responder à questão 23.

“Levantamento feito pelo Estado nos 38 ministérios do governo da presidente Dilma Rousseff aponta que um terço dos ministros integra hoje uma elite do funcionalismo com supersalários que ultrapassam o teto salarial de R\$ 26.723,15. São 13 ministros que engordam seus rendimentos com jetons por participação em conselhos de empresas”. (Fonte: OESP, 07 abril 2012)

23. Para tentar por um freio nos supersalários, o governo federal decidiu
- (A) acabar com os jetons concedidos.
(B) acabar com o acúmulo de conselhos que têm relação com as respectivas pastas.
(C) encaminhar projeto de lei complementar que estabelece que nenhum servidor público pode ganhar mais que a remuneração de ministro do Supremo Tribunal Federal (STF).
(D) criar um limite para que os jetons pagos a ministros tenham um teto fixo.

Leia a notícia abaixo para responder à questão 24.

“Os presidentes de bancos de desenvolvimento dos Brics (Brasil, Rússia, Índia, China e África do Sul) assinaram acordos que vão permitir o financiamento de comércio e investimento em moeda local”. (Fonte: OESP, 29 março 2012)

24. O objetivo da medida é aumentar a cooperação entre os bancos de desenvolvimento dos Brics para
- (A) diminuir o comércio entre os países do bloco.
(B) aumentar a visibilidade desses países.
(C) evitar a vinculação do negócio ao dólar, e portanto, a exposição à flutuação cambial.
(D) prejudicar a obtenção de financiamento com instituições de fomento do país onde o investimento será realizado.

Leia o trecho abaixo para responder à questão 25.

“Pensativa, a rainha da Inglaterra, Elizabeth 2ª, contempla por alguns segundos a imagem da cidade do Rio de Janeiro com o Cristo Redentor exibida na tela de uma TV e tenta se lembrar de quando esteve lá, mas em vão. Ela parou um pouco para pensar e depois disse apenas algo como 'faz muito tempo'”. (Fonte: UOL – Educação, 07/03/2012)

25. A visita da rainha da Inglaterra, Elizabeth 2ª, aconteceu no ano
- (A) 1970.
(B) 1968.
(C) 1977.
(D) 1980.

Leia o trecho abaixo para responder à questão 26.

“O Livro "A Relíquia" faz uma grande crítica e uma sátira hilariante do catolicismo em Portugal, por meio das memórias do narrador Teodorico Raposo, o "Raposão" (como as mulheres o chamam)". (Fonte: UOL – Literatura, 20/03/2012)

26. O autor do livro "A Relíquia" é

- (A) Machado de Assis.
- (B) Guimarães Rosa.
- (C) Eça de Queirós.
- (D) Drummond de Andrade.

CONHECIMENTOS ESPECÍFICOS

27. Para os condutores de veículos, existem algumas restrições quanto à condução de determinados veículos, no caso, as categorias de habilitação. Observe as alternativas abaixo e assinale a **INCORRETA**.

- (A) Categoria E: abrange as categorias "A", "B", "C" e "D".
- (B) Categoria B: Motorista amador, que utiliza carro de passeio, podendo dirigir veículos cuja lotação não exceda a oito passageiros, até o peso de 3.500 Kg.
- (C) Categoria C: Para conduzir veículos motorizados para transporte de carga com peso acima de 3.500Kg (caminhão). Deverá ter, no mínimo, um ano de experiência na categoria B, não ultrapassando 6.000 KG de peso bruto, e abrange a categoria "B".
- (D) Categoria D: O motorista poderá transportar passageiros em veículos adequados acima de 08 lugares, e abrange as categorias "B" e "C".

28. Segundo o Código de Trânsito Brasileiro, ao conduzir motocicleta, motoneta ou ciclomotor,

- I. sem usar capacete de segurança com viseira ou óculos de proteção e vestuário de acordo com as normas e especificações aprovadas pelo CONTRAN;
- II. transportando passageiro sem o capacete de segurança, na forma estabelecida, ou fora do assento suplementar colocado atrás do condutor ou em carro lateral;
- III. fazendo malabarismo ou equilibrando-se apenas em uma roda;
- IV. transportando criança menor de sete anos ou que não tenha, nas circunstâncias, condições de cuidar de sua própria segurança:





Será considerada:

- (A) infração grave, aplicada multa e será suspenso o direito de dirigir.
- (B) infração gravíssima, aplicada multa e será suspenso o direito de dirigir.
- (C) infração leve, aplicada multa.
- (D) infração grave, aplicada multa.

29. Pedestres, apesar de ter prioridade sobre os veículos, têm também suas proibições, conforme prevê o artigo 254, da lei 9503. Diante disso, assinale a alternativa **INCORRETA**.

- (A) Permanecer ou andar nas pistas de rolamento, exceto para cruzá-las onde for permitido.
- (B) Cruzar pistas de rolamento nos viadutos, pontes, ou túneis, somente no locais onde há sinalização.
- (C) Atravessar a via dentro das áreas de cruzamento, salvo quando houver sinalização para esse fim.
- (D) Utilizar-se da via em agrupamentos capazes de perturbar o trânsito, ou para a prática de qualquer folguedo, esporte, desfiles e similares, salvo em casos especiais e com a devida licença da autoridade competente.

30. Os gestos dos agentes de trânsito correspondem a movimentos convencionais de braço, para orientar e indicar o direito de passagem dos veículos. A sinalização dos agentes prevalece sobre as regras de circulação e as normas definidas por outros sinais de trânsito. Assinale a alternativa **INCORRETA**.

- (A)  Ordem de parada obrigatória a todos os veículos, que cortem ortogonalmente a direção indicada pelos braços estendidos, qualquer que seja o sentido de seu deslocamento. (Braços estendidos horizontalmente com as palmas das mãos voltadas para frente)
- (B)  Ordem de parada obrigatória a todos os veículos, que cortem ortogonalmente a direção indicada pelo braço estendido, qualquer que seja o sentido de seu deslocamento. (Braço estendido horizontalmente com a palma da mão para frente do lado a que se destina)
- (C)  Ordem de seguir, braço levantado verticalmente com a palma da mão voltada para frente.
- (D)  Ordem de diminuição de velocidade, braço estendido horizontalmente, com a palma da mão para baixo, fazendo movimentos verticais.

31. A cada infração cometida por um motorista, são inseridos pontos na sua carteira, assinale a alternativa correta.

- (A) Infração leve: 02 pontos.
- (B) Infração média: 03 pontos.
- (C) Infração grave: 05 pontos.
- (D) Infração gravíssima: 06 pontos.

32. Para maior segurança no desempenho das tarefas de agentes de trânsito, e para garantir a tranquilidade aos envolvidos em ocorrências, algumas atitudes são consideradas essenciais:

- I. atender o usuário sempre que possível, pelo lado do carona quando seu veículo estiver no acostamento.
- II. procurar transmitir calma, controle e conhecimento da situação ao usuário para que ele possa se sentir seguro com a sua presença.
- III. nunca ficar entre o veículo do usuário e a faixa de rolamento livre à circulação.
- IV. nunca ficar de frente para o tráfego.

É correto o que se afirma em

- (A) II e IV, apenas.
- (B) III, apenas.
- (C) I, II, III, apenas.
- (D) I, II, III e IV.

33. Nas rodovias notamos que existem placas de sinalização idênticas, porém com cores diferenciadas. Sobre as cores das placas, assinale a alternativa correta.

- (A) As cores são diferenciadas de estado para estado.
- (B) As placas de cor amarela significam que são de uso temporário e as de cor laranja são de advertência permanente.
- (C) As placas de cor laranja são de informações complementares e as de cor amarela vinculadas sempre a obras na pista.
- (D) As placas de cor amarela são de advertência permanente, e as de cor laranja, são de advertência temporária, vinculadas sempre a obras na pista.

34. Conforme regulamentação do CONTRAN, está sujeito a reciclagem, o motorista que

- I. for infrator contumaz.
- II. estiver dirigindo veículo com dispositivo antirradar.
- III. for condenado judicialmente por delito de trânsito.
- IV. se envolver em qualquer tipo de acidente de trânsito.





É correto o que se afirma em

- (A) III e IV, apenas.
- (B) I e III, apenas.
- (C) II, III e IV, apenas.
- (D) I, II, III e IV.

35. Existem órgãos no Brasil que regulamentam, normatizam, executam e cumprem as leis de trânsito. Com relação aos órgãos, assinale a alternativa **INCORRETA**.

- (A) CONTRAN: Conselho Nacional de Trânsito é o órgão máximo normativo do país.
- (B) DENATRAN: Departamento Nacional de Trânsito é o órgão máximo executivo no país.
- (C) DETRAN: Departamento de Trânsito é o órgão máximo dos estados e do distrito federal.
- (D) CIRETRAN: Conselho Regional de Trânsito atuam nas regiões e são subordinados ao DETRAN.

36. Sinalização horizontal é um sistema da sinalização viária que utiliza linhas, marcações, símbolos e legendas, pintados ou apostos sobre o pavimento das vias. É empregada para complementar regulamentação, advertências e indicações e, em alguns casos, é usada independentemente. É traduzida através de pinturas no pavimento, utilizando-se as cores branca e amarela. A sinalização horizontal é composta das marcas viárias, tais como: setas, palavras, números, símbolos, tachas, catadióptricos e faixas. Com relação à sinalização horizontal, assinale a alternativa **INCORRETA**.

- (A)  Faixa dupla contínua/seccionada amarela: divide a via em dois fluxos opostos; ultrapassagem permitida apenas no sentido A.
- (B)  Faixa dupla contínua amarela: divide a via em dois fluxos opostos, não permite a ultrapassagem em nenhum sentido.
- (C)  Marca de canalização amarela: orienta o fluxo do tráfego na via de dois sentidos.
- (D)  Estacionamento para idosos: orienta que se não houver outra vaga disponível, outros veículos poderão estacionar utilizando-se do pisca alerta, por um período de quinze minutos.

37. São consideradas infrações gravíssimas, com recolhimento da CNH:

- I. exceder em mais de 50% a velocidade máxima permitida em vias rápidas, arteriais e demais vias.
- II. não parar para agrupamentos de pessoas, passeatas, desfiles e outros.
- III. dirigir com CNH ou permissão incompatível com a categoria do veículo.
- IV. seguir veículos de urgência com prioridade de passagem.

É correto o que se afirma em

- (A) I e II, apenas.
- (B) I, II e IV, apenas.
- (C) I e III, apenas.
- (D) I, II, III e IV.

38. Os pneus são partes integrantes e importantes na estabilidade de um veículo, portanto é correto afirmar que

- (A) os pneus devem ser calibrados periodicamente a cada 30 dias, para aumentar sua vida útil.
- (B) os pneus reformados não podem ser utilizados em motocicletas, motonetas e triciclos, podendo apenas pneus remoldados ou novos.
- (C) os pneus com desgaste abaixo de 1,6 mm de profundidade nos sulcos são considerados impróprios para uso.
- (D) conforme recomendação do CONTRAN, deve-se alinhar e balancear as rodas de um veículo, apenas quando houver troca de pneus

39. Podemos dizer por direção defensiva, preventiva e corretiva, aquelas ações que

- I. o motorista dirige com eficiência, segurança, educação e também prevenido contra um eventual erro de outro, indo de um ponto a outro sem cometer falhas.
- II. o motorista, em caso de cerração à noite, utiliza luz alta para ter uma melhor visibilidade das marcações na pista.
- III. o motorista, em caso de vento lateral forte, segura o volante com firmeza, diminui a velocidade e abaixa um pouco os vidros para amenizar o problema.
- IV. o motorista dirigindo na chuva deve manter uma velocidade constante de 90 km por hora, pois nesta velocidade evita-se a aquaplanagem.

É correto o que se afirma apenas em

- (A) I e III.
- (B) I e IV.
- (C) I, II e IV.
- (D) III e IV.

40. Primeiros socorros têm por objetivo amenizar o sofrimento, ou até mesmo, salvar a vida de uma vítima de acidente até a chegada de uma ajuda qualificada. Sobre os primeiros socorros, analise as situações abaixo.

- I. Em uma colisão em um poste, onde houver rompimento de cabos elétricos, jamais tocar nos cabos e não permitir que os passageiros desçam do veículo até a chegada de ajuda especializada.
- II. Geralmente, vítimas de acidentes, entram em estado de choque, que pode ser identificado pela palidez acentuada, pele fria, suor excessivo, agitação, respiração rápida, seguida ou não de perda de consciência. O ideal neste caso é deitar a vítima de costa, elevar as pernas em mais ou menos 30 cm, afrouxar a roupa e tranquiliza-la.
- III. Alguns sintomas visíveis podem direcionar a atitude do socorrista, como a análise das pupilas da vítima. Pupilas contraídas podem indicar traumatismo craniano ou intoxicações (Miose); pupilas dilatadas, sem reação à luz, podem indicar parada cardíaca, intoxicação por remédio ou até mesmo morte (Medriase); uma pupila dilatada e outra contraída podem indicar derrame cerebral ou traumatismo craniano (Anisocória).
- IV. No caso de fratura exposta, prestar socorro imediatamente recolocando o osso fraturado, cobrindo o ferimento com um pano limpo, usando talas para puxar de volta o membro na posição, utilizando uma bandagem para manter o curativo e imobilizando o local da fratura, sempre enrolando a bandagem da esquerda para a direita e das extremidades ao centro dos membros.

É correto o que se afirma em

- (A) I e II, apenas.
- (B) I, III e IV, apenas.
- (C) I, II e III, apenas.
- (D) I, II, III e IV.